

# Sagopyssel 2



Spännande sagopyssel i Masonas värld!

Sagospalet  
**Äventyr**



# Sagopysssel 2

## KONSTRUKTION

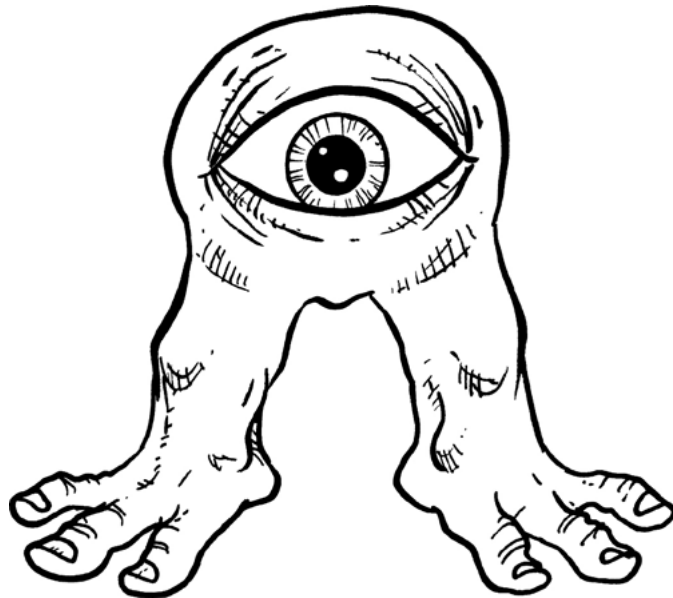
Richard Svensson  
Daniel Lehto

## ILLUSTRATIONER & OMSLAGSBILD

Richard Svensson

## ORIGINAL

Daniel Lehto



Sagospellet  
**Aventyr**®


©Eloso Förlag, Daniel och Julia Lehto, 2017

ISBN: 978-91-983886-6-4

Tryck: Bulls Graphics, Halmstad

Hemsida: <http://www.sagospelletaventyr.se>

Gilla oss gärna på Facebook: [www.facebook.com/sagospellet](http://www.facebook.com/sagospellet)



Vad blir summan av alla tvåor?  
Vad blir summan av alla femmor?  
Vad blir summan av alla nior?  
Hur många udda siffror finns det?  
Hur många bubblor är det totalt?  
Hur många jämna siffror finns det?







<b>1</b>		<b>3</b>				<b>7</b>		<b>9</b>	<b>10</b>
	<b>12</b>		<b>14</b>		<b>16</b>			<b>19</b>	
<b>21</b>		<b>23</b>		<b>25</b>		<b>27</b>		<b>29</b>	<b>30</b>
	<b>32</b>		<b>34</b>		<b>36</b>		<b>38</b>		<b>40</b>
		<b>43</b>		<b>45</b>		<b>47</b>		<b>49</b>	
<b>51</b>	<b>52</b>		<b>54</b>		<b>56</b>		<b>58</b>		<b>60</b>
	<b>62</b>		<b>64</b>		<b>66</b>		<b>68</b>		<b>70</b>
<b>71</b>		<b>73</b>		<b>75</b>		<b>77</b>		<b>79</b>	
<b>81</b>			<b>84</b>		<b>86</b>		<b>88</b>		<b>90</b>
		<b>93</b>		<b>95</b>		<b>97</b>		<b>99</b>	

Fyll i siffrorna som fattas i rutorna.



Vilket troll har störst antal tänder?  
Vilket troll har minst antal tänder?  
Vilket troll har näst mest tänder?






Lägg till eller dra ifrån antalet figurer och skriv ned summan du får fram.




Orchen Slug har slagit vad med sin hungriga kompis Kurr om att ingen kan vända upp och ned på pyramiden av pajer, bara genom att flytta på tre av pajerna. Om Kurr kan lösa problemet får han äta upp pajerna. Kan du hjälpa Kurr?






Hur mycket väger var och en av de två vättarna, om de väger lika mycket?




Om vättarna på bilden väger lika mycket var som vättarna på den första bilden, hur mycket väger då hoppingen?




Dag




Natt



Dag



Dag



**Färg**

**Kl**

Blå

06-09:59

Grön

10-13:59

Gul

14-17:59

Röd


18-21:59

Svart

22-05:59


Klockfågeln hjälper alla på Masona att hålla tiden.  
Måla klockfåglarna i rätt färg





Räkna ut summorna i varje fält med siffror på bilden för att se vilken färg de ska ha. När du är klar får du hjälpa pysslingen att få rätt färg på kläderna.

Blå=12    Röd=5    Gul=4    Orange=13  
 Grön=8    Brun=11    Lila=9    Svart=7




Babblomanen berättar för drakriddarna om vilken drake som är den starkaste, men babblomanen pratar så mycket och så fort så att riddarna inte hinner med. Babblomanen pratar dock mest om den starkaste draken. Räkna draksymbolerna. Den drake som finns på flest symboler är den starkaste.





Vilken av riddarna vinner den årliga riddartävlingen i Drottningborg?  
 Det gäller att vara både stark, smart och snabb för att vinna. Här  
 nedanför ser du hur många poäng varje symbol är värd. Räkna samman  
 alla poäng för vardera riddare. Den riddare med högst poäng vinner.



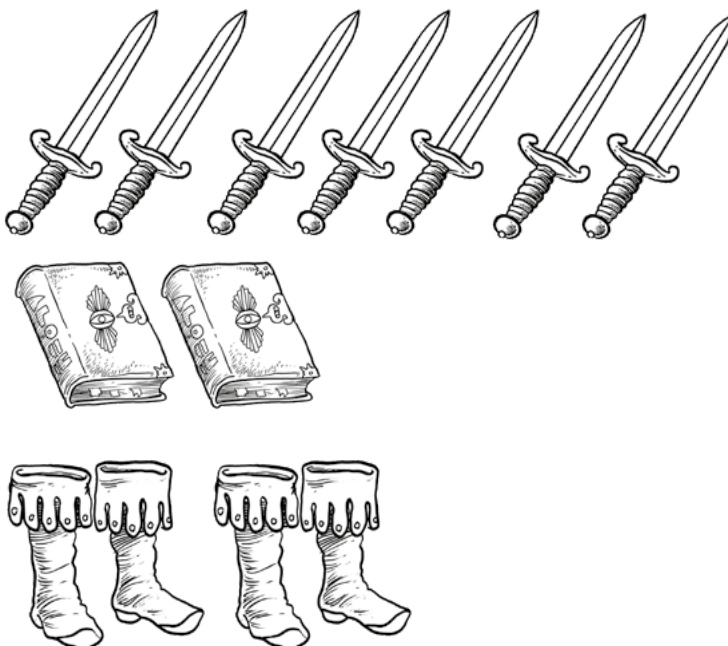
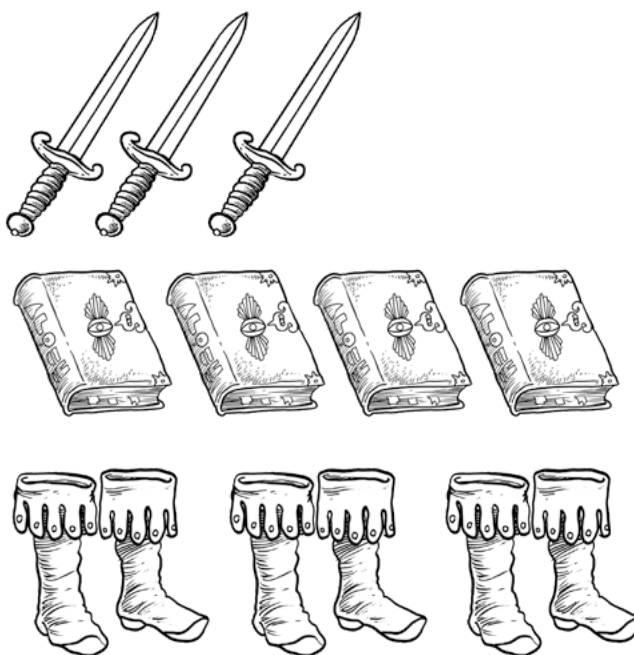
1 poäng




2 poäng



1 poäng





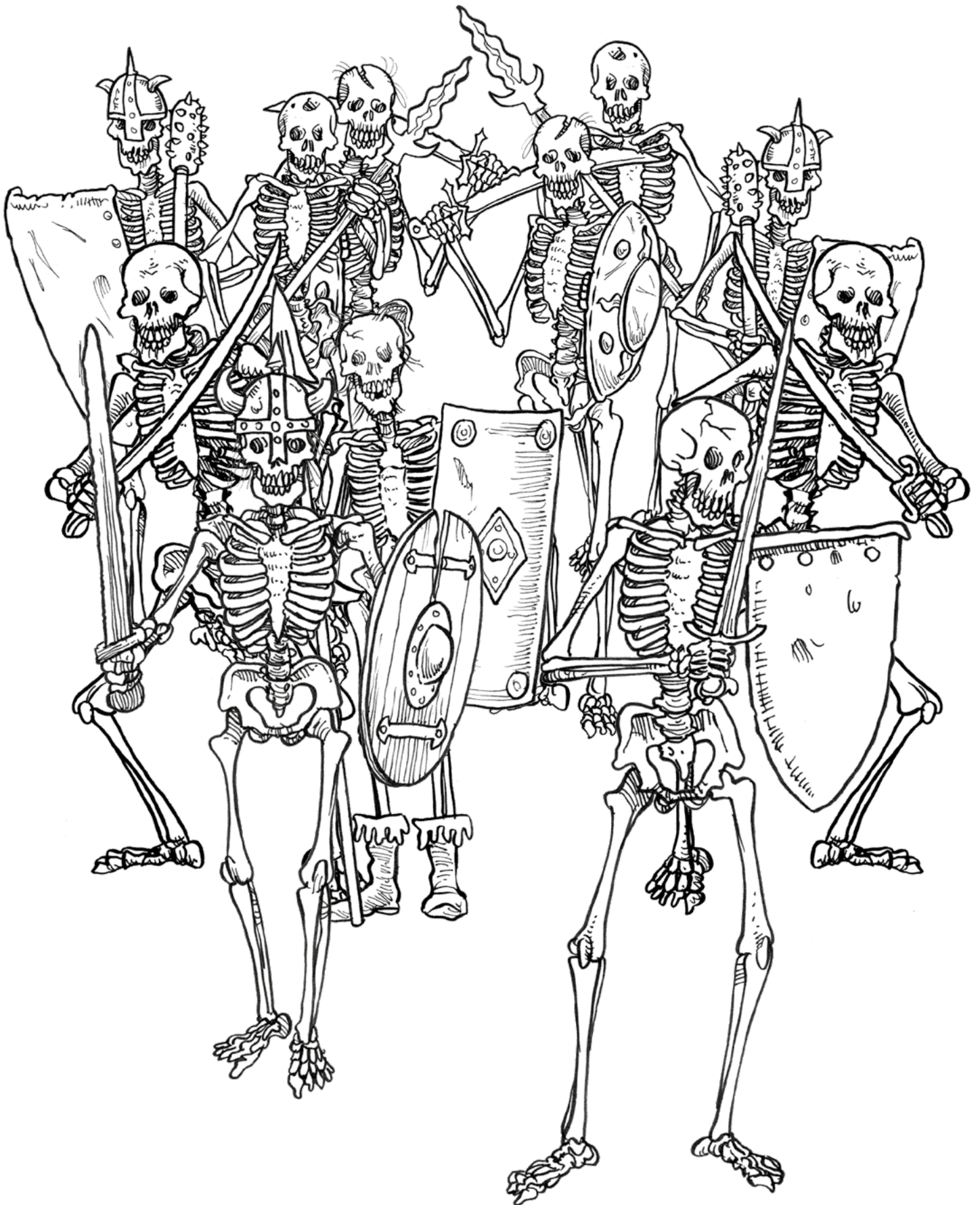


Hur många trianglar kan du se på den här bilden?



Rektor Teonora Formelvävare har gett Magira Magikus i uppdrag att räkna hur många böcker som finns i biblioteket, eftersom spöket Goster har ställt till med oreda. Hur många böcker finns det på bilden?





Häxmästarinnans armé av skelett är på marsch! Du måste genast meddela drottning Paunella, men hon vill säkert ha lite mer information.


Hur många skelett är det på bilden?  
Hur många skelett har hjälm?

Hur många skelett har sköld?  
Hur många skelett har svärd?

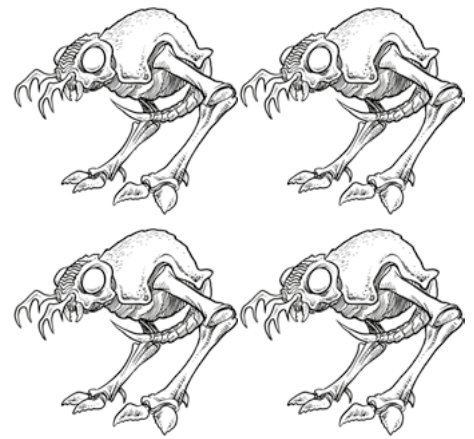
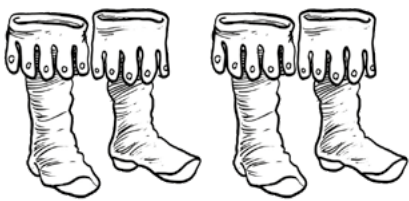








Äventyraren Ina åker runt i överlden med sin kompis draken för att leta efter sina försvunna föräldrar. Här ser du några bilder på henne när hon är och letar. Ina skulle nog bli glad om du målade bilderna!





Himmelsalverna bor på den svävande ön Molnrike. De är duktiga flygare. Häxmästarinnan Sirana förlorade sina vingar för länge sedan, men hon är egentligen en himmelsalv. Nu för tiden ställer hon ofta till med elakheter i överlden.



	
2 poäng	1 poäng
	
1 poäng	3 poäng

För att kunna besegra monstret måste riddaren få högre poäng än monstret. Lagg ihop poängen för alla symboler för riddaren och för monstret för att se om riddaren klarar av det, eller om han måste hämta hjälp?







Ariba



Hasans




Banjion




Brandenweld


Här ser du några vanliga klädslar på olika platser i världen Masona.  
Färglägg i de färger du tycker passar!



Trolldomsläraren Murkle försöker räkna hur många spindlar det finns på bilden, men de vill inte stå stilla! Kan du hjälpa honom att räkna?

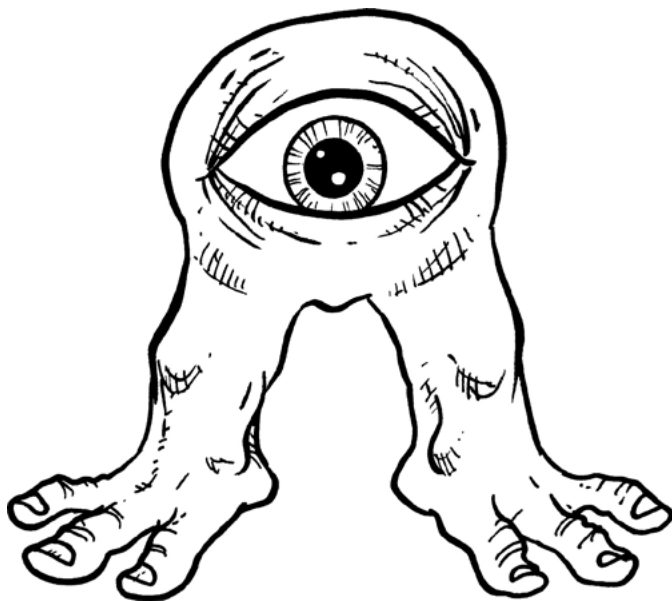
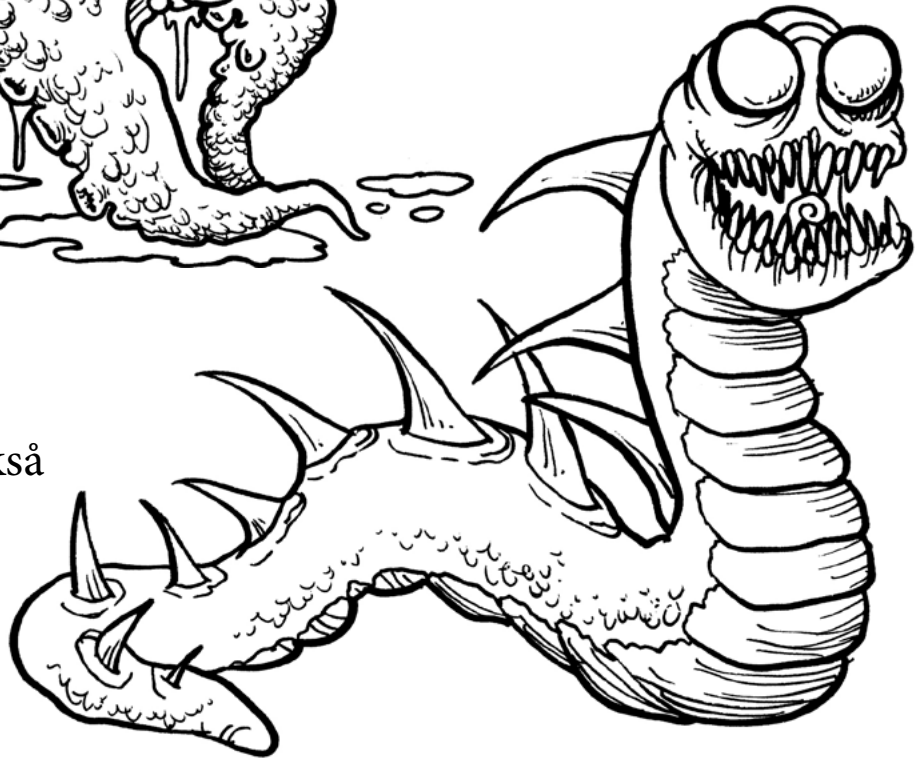


Svartmagikern Zem Zafir gillar att skryta med sina konster. Här jonglerar han med svärd genom sina trollkonster. Kan du se vilka två svärd som är annorlunda än övriga?



Tagglingen är ett otäckt odjur som lever i tunnlår och grottor under marken. Den vill man helst inte stöta på under sina äventyr.

Sjöstjärnan, den stora sorten, lever i sjöjungfrurnas rike Atlantis. Den kallas också slemblobba.




Hoppingarna lever oftast i stora flockar. De är telepatiska och känner sig ensamma utan sina vänner.



Stubbgubbar är tjuriga varelser, och det kanske inte är så konstigt. De var ju en gång ett helt träd, men är nu bara stubben kvar!

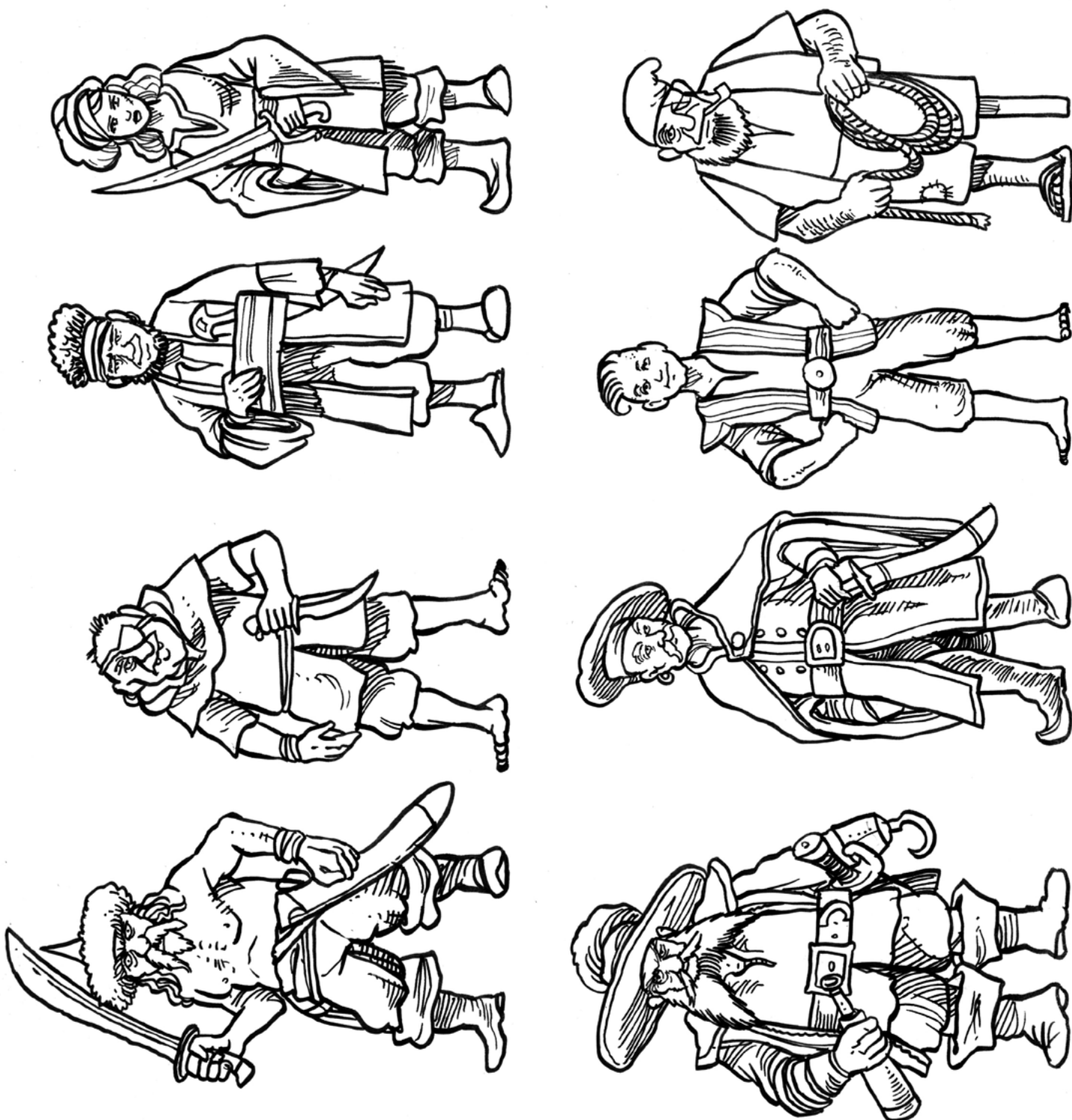


Gurt är på väg från gruvan med allt guld han samlat på sig. I vagnen har han lika många guldklimpar som antalet hackor ovanför vagnen. Hjälp honom att räkna hur mycket guld han har kvar, efter att han betalat lika många guldklimpar till monstren nedan som antalet hackor under varje monster.





Under Alea Masonas berg finns det gamla dvärgriket Bordur. Där lever många dvärgar som ibland besöker människornas städer. Här ser du en grupp modiga äventyrare från dvärgarnas rike.



Det finns många pirater och sjöfarare i Västanhavet och i övärlden.



# FACIT

Sidan 2.

Vad blir summan av alla tvåor?	4
Vad blir summan av alla femmor?	10
Vad blir summan av alla nior?	9
Hur många udda siffror finns det?	10
Hur många bubblor är det totalt?	15
Hur många jämna siffror finns det?	5

Sidan 4.


Vilket troll har störst antal tänder?	Trollet nere till vänster.
Vilket troll har minst antal tänder?	Trollet nere till höger.
Vilket troll har näst mest tänder?	Trollet högst upp till vänster.

Sidan 6.

Uppifrån och ned: 3, 2, 0, 5, 11

Sidan 7. Pajpyramiden

Flytta de numrerade pajerna till motsvarande siffra i den upp och nedvända triangeln.



Sidan 8.

Vättarna väger 40 kg var.  
Hoppingen väger 75 kg.

Sidan 9.

Fåglarnas färger, uppifrån och ned: grön, svart, gul, grön.

Sidan 12.

Nedanstående drake är den starkaste. Det finns sex stycken sådana och fem av de andra.



Sidan 13.

Det finns bara ett exemplar av följande saker: andelampan, pergamentrullen, den magiska boken.

Sidan 15.

Den övre riddaren vinner med 14 poäng mot 13.

Sidan 16.

Det finns fem trianglar på bilden.

Sidan 17.

Det finns 31 böcker på bilden.

Sidan 19.

Hur många skelett är det på bilden?	11
Hur många skelett har hjälm?	3
Hur många skelett har sköld?	6
Hur många skelett har svärd?	6


Sidan 23.

Riddaren har 11 poäng och monstret 12, så riddaren måste hämta hjälp.

Sidan 26.

Det finns 19 st spindlar på bilden.

Sidan 27.



Sidan 29.

Dvärgen har kvar fem guldklimpar efter att ha betalat monstren.